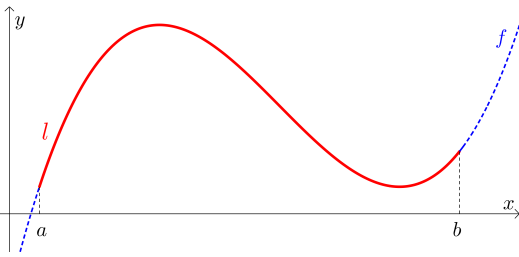
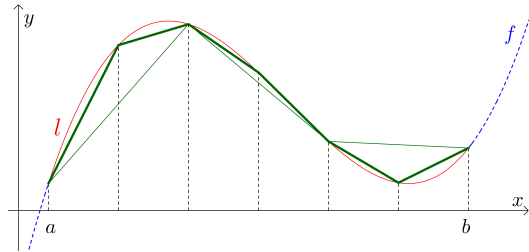
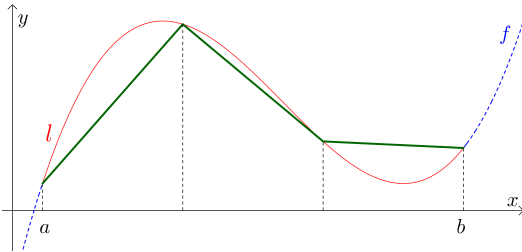


Bogenlänge näherungsweise ermitteln



Links ist ein Bogen im Intervall $[a; b]$ dargestellt.
Wir wollen seine Länge l ermitteln.
Dazu nähern wir den Bogen durch Streckenzüge an.
Links unten besteht der Streckenzug aus 3 Strecken.
Rechts unten ist er auf 6 Strecken **verfeinert**.



Jede noch so feine Zerlegung kann nicht länger als die Bogenlänge l sein. Warum?
Mit jeder Verfeinerung kann der Streckenzug insgesamt nur länger werden. Warum?
Der **Grenzwert** ist die *exakte* Bogenlänge. Die kürzeste Verbindung zweier Punkte ist die Strecke.

Bogenlänge $\int_a^b \sqrt{1 + f'(x)^2} dx$ **MmF**

Für die **Bogenlänge** l des Graphen einer **differenzierbaren** Funktion f im Intervall $[a; b]$ gilt:

$$l = \int_a^b \sqrt{1 + f'(x)^2} dx$$

Auf der Rückseite erfährst du *warum*.

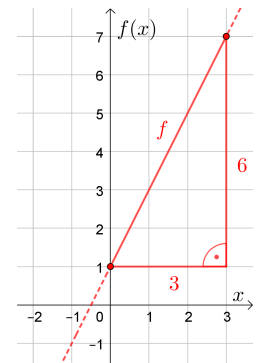
Strecke **MmF**

Für die Funktion f gilt: $f(x) = 2 \cdot x + 1$

- 1) Zeichne rechts den Graphen von f ein.
- 2) Ermittle die Bogenlänge von f in $[0; 3]$ ohne die Formel für die Bogenlänge.
- 3) Berechne die Bogenlänge von f in $[0; 3]$ mit der Formel für die Bogenlänge.

2) $l = \sqrt{3^2 + 6^2} = \sqrt{45} = 6,70\dots$

3) $f'(x) = 2 \implies l = \int_0^3 \sqrt{1 + 2^2} dx = \sqrt{5} \cdot x \Big|_0^3 = 3 \cdot \sqrt{5} = 6,70\dots$



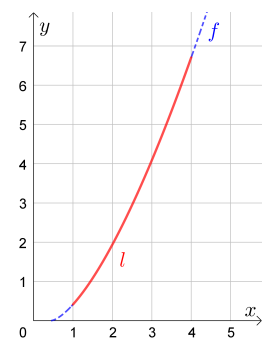
Bogenlänge **MmF**

Berechne die Bogenlänge der Funktion f mit $f(x) = \left(x - \frac{4}{9}\right)^{\frac{3}{2}}$ in $[1; 4]$.

$$f'(x) = \frac{3}{2} \cdot \left(x - \frac{4}{9}\right)^{\frac{1}{2}}$$

$$1 + f'(x)^2 = 1 + \frac{9}{4} \cdot \left(x - \frac{4}{9}\right) = \frac{9}{4} \cdot x$$

$$l = \int_1^4 \sqrt{\frac{9}{4} \cdot x} dx = \frac{3}{2} \cdot \int_1^4 x^{\frac{1}{2}} dx = \frac{3}{2} \cdot \frac{2}{3} \cdot x^{\frac{3}{2}} \Big|_1^4 = 8 - 1 = 7$$



Wir sehen uns die Steigung einer differenzierbaren Funktion f im Intervall $[a; b]$ an.

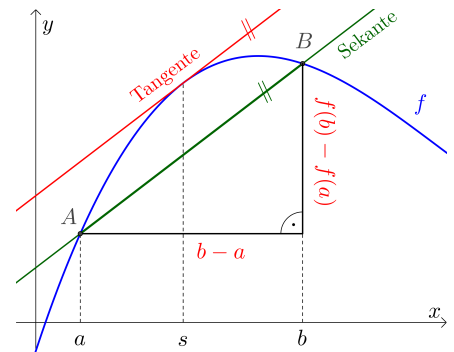
Stelle mithilfe von f , a und b eine Formel für die Steigung der Gerade durch die Punkte $A = (a | f(a))$ und $B = (b | f(b))$ auf:

$$\text{Steigung der Sekante} = \frac{f(b) - f(a)}{b - a}$$

Der **Mittelwertsatz der Differentialrechnung** garantiert (mindestens) eine Stelle s in $[a; b]$, für die gilt:

$$f'(s) = \frac{f(b) - f(a)}{b - a}$$

Steigung einer **Tangente** \swarrow \nwarrow Steigung der **Sekante**



Rechts ist der Graph einer differenzierbaren Funktion f auf einem Intervall der Länge Δx dargestellt.

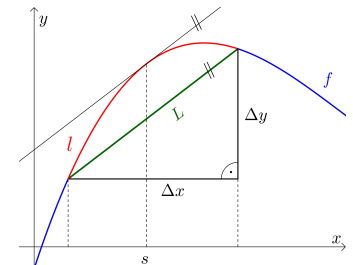
Der Mittelwertsatz der Differentialrechnung garantiert (mindestens) eine Stelle s im Intervall, für die gilt:

$$f'(s) = \frac{\Delta y}{\Delta x} \iff \Delta y = \Delta x \cdot f'(s)$$

Wir nähern den Bogen durch die eingezeichnete Sehne an.

Stelle mithilfe von Δx und $f'(s)$ eine Formel für die Sehnenlänge L auf:

$$L = \sqrt{(\Delta x)^2 + (\Delta y)^2} = \sqrt{(\Delta x)^2 \cdot (1 + f'(s)^2)} = \Delta x \cdot \sqrt{1 + f'(s)^2}$$



Wir teilen das Intervall $[a; b]$ in n Teile mit jeweils gleicher Breite Δx .

Im Bild ist $n = 3$.

In jedem Teilintervall nähern wir den Bogen wie zuvor durch eine Sehne an.

Die Länge L_i der i -ten Sehne beträgt dann

$$L_i = \sqrt{1 + f'(s_i)^2} \cdot \Delta x$$

mit einer geeigneten Zwischenstelle s_i .

Für die Gesamtlänge des Streckenzugs gilt:

$$L_1 + L_2 + \dots + L_n = \sum_{i=1}^n L_i = \sum_{i=1}^n \sqrt{1 + f'(s_i)^2} \cdot \Delta x$$

Das ist genau eine **Zwischensumme** beim Integrieren der Funktion $g(x) = \sqrt{1 + f'(x)^2}$ in $[a; b]$.

Der Grenzwert $\int_a^b g(x) dx = \int_a^b \sqrt{1 + f'(x)^2} dx$ ist die **Bogenlänge** l .

