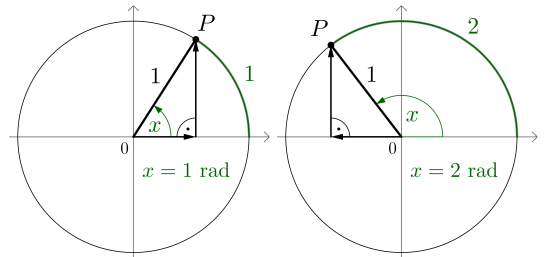


Bei den *Winkelfunktionen* auf diesem Arbeitsblatt messen wir alle Winkel im **Bogenmaß**. Rechts sind die beiden Winkel $x = 1 \text{ rad}$ bzw. $x = 2 \text{ rad}$ am **Einheitskreis** dargestellt.

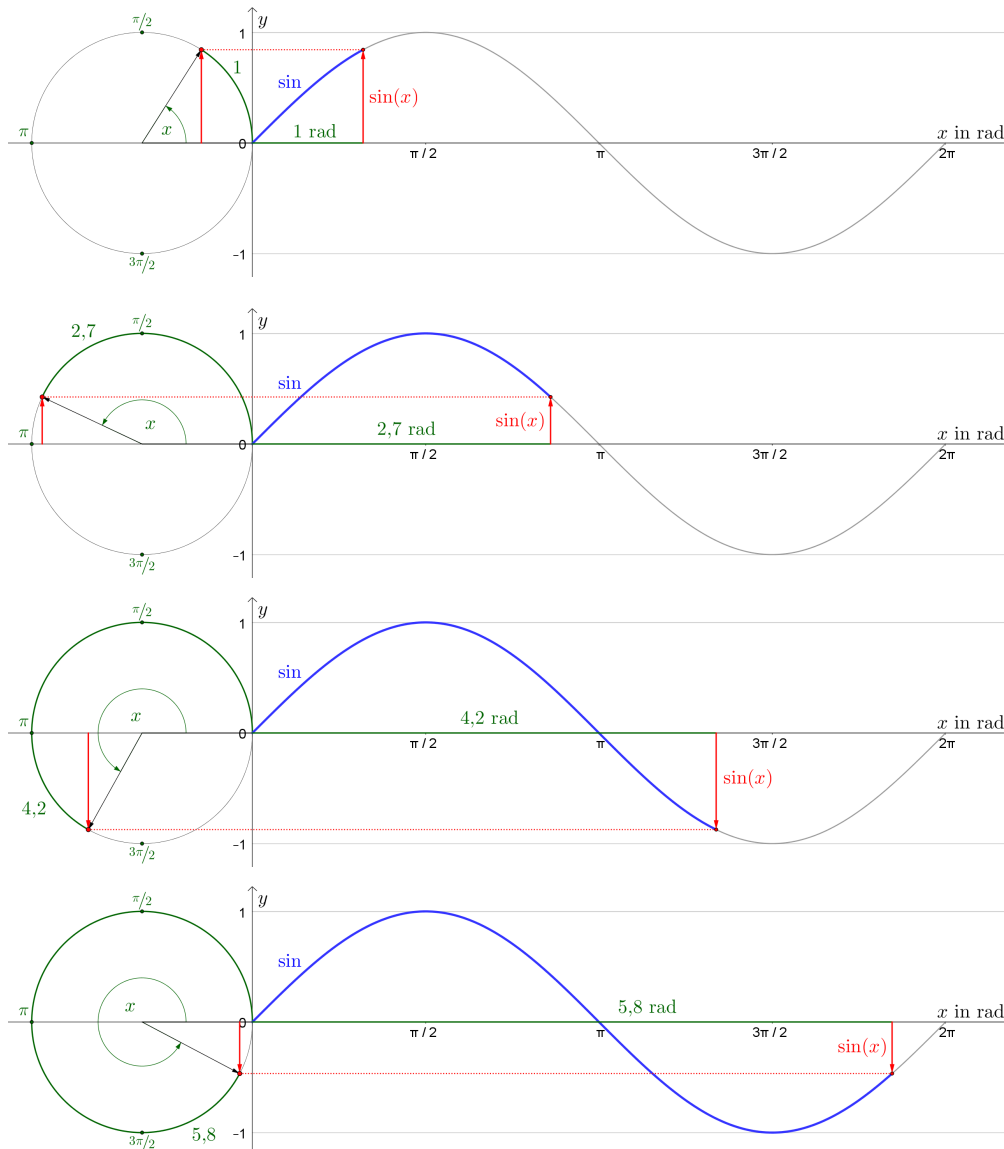
Da der Radius die Länge 1 hat, haben die beiden dargestellten Winkelbögen am Kreis die Länge 1 bzw. 2.

Jedem Winkel $x \in [0 \text{ rad}, 2 \cdot \pi \text{ rad}[$ entspricht genau ein Punkt P am Einheitskreis. Für seine Koordinaten gilt:

$$P = (\cos(x) \mid \sin(x))$$



Die **Sinusfunktion** ordnet jedem **Winkel x** die zugehörige 2. Koordinate **$\sin(x)$** am Einheitskreis zu:



Im Intervall $[0 \text{ rad}, 2 \cdot \pi \text{ rad}[$ hat die Sinusfunktion ...

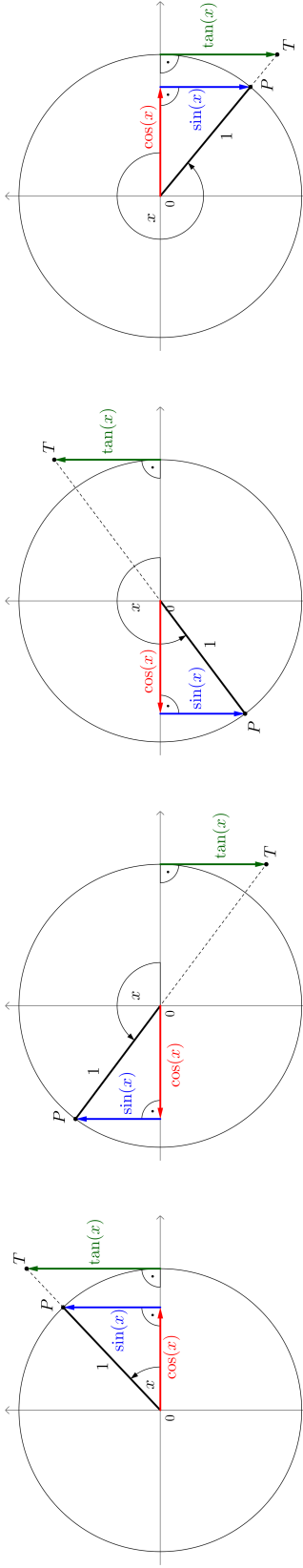
... die **Nullstellen** bei den Winkeln $x = 0 \text{ rad}$ und $x = \pi \text{ rad}$.

... den **Hochpunkt** $(\frac{\pi}{2} \text{ rad} \mid 1)$ und den **Tiefpunkt** $(\frac{3\pi}{2} \text{ rad} \mid -1)$.

Am steilsten bergab geht die Sinusfunktion im Intervall $[0 \text{ rad}, 2 \cdot \pi \text{ rad}[$ an der Stelle $x = \pi \text{ rad}$.

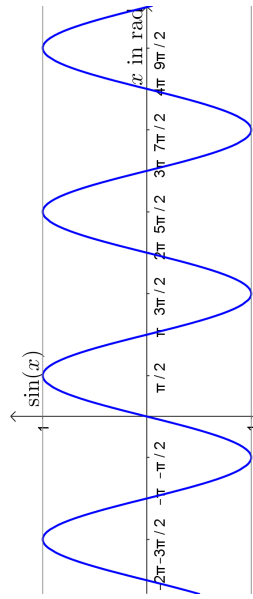
Diese Stelle ist eine sogenannte **Wendestelle** der Sinusfunktion.

In den folgenden Bildern sind die Winkelfunktionen Sinus, Cosinus und Tangens in den 4 Quadranten am Einheitskreis dargestellt:



Die Winkelfunktionen Sinus, Cosinus und Tangens haben daher die folgenden Eigenschaften:

Sinusfunktion: $\sin(x)$



Definitionsmenge: $D = \mathbb{R}$

(Kleinstmögliche) Wertemenge: $W = [-1; 1]$

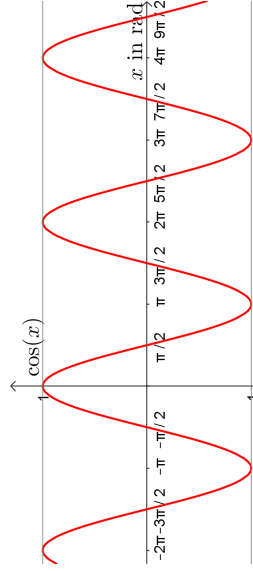
(Kleinstmögliche) **Periodendauer**: $T = 2 \cdot \pi$ rad

Nullstellen: $k \cdot \pi$ mit $k \in \mathbb{Z}$

Symmetrie zum Koordinatenursprung $(0 | 0)$:

$\sin(-x) = -\sin(x)$ \sin ist eine **ungerade Funktion**.

Cosinusfunktion: $\cos(x) = \sin(x + \frac{\pi}{2})$



Definitionsmenge: $D = \mathbb{R}$

(Kleinstmögliche) Wertemenge: $W = [-1; 1]$

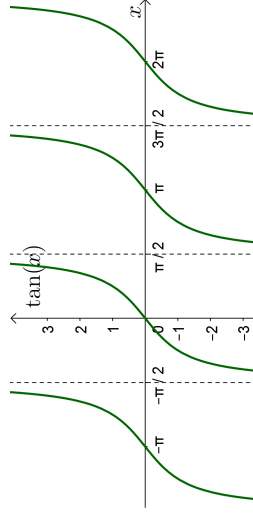
(Kleinstmögliche) **Periodendauer**: $T = 2 \cdot \pi$ rad

Nullstellen: $\frac{\pi}{2} + k \cdot \pi$ mit $k \in \mathbb{Z}$

Symmetrie zur vertikalen Achse:

$\cos(-x) = \cos(x)$ \cos ist eine **gerade Funktion**.

Tangensfunktion: $\tan(x) = \frac{\sin(x)}{\cos(x)}$



Definitionsmenge: $D = \mathbb{R} \setminus \{\frac{\pi}{2} + k \cdot \pi \mid k \in \mathbb{Z}\}$

(Kleinstmögliche) Wertemenge: $W = \mathbb{R}$

(Kleinstmögliche) **Periodendauer**: $T = \pi$ rad

Nullstellen: $k \cdot \pi$ mit $k \in \mathbb{Z}$

Symmetrie zum Koordinatenursprung $(0 | 0)$:

$\tan(-x) = -\tan(x)$ \tan ist eine **ungerade Funktion**.

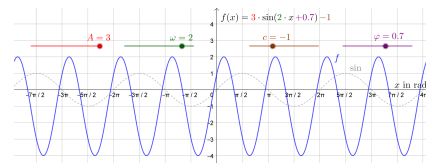
Polstellen: $\frac{\pi}{2} + k \cdot \pi$ mit $k \in \mathbb{Z}$

Jede Funktion f mit

$$f(x) = A \cdot \sin(\omega \cdot x + \varphi) + c$$

heißt **allgemeine Sinusfunktion**.

A ... Amplitude
 ω ... Kreisfrequenz
 φ ... Nullphasenwinkel



Die Graphen von $x \mapsto \sin(x)$ und $x \mapsto 3 \cdot \sin(2 \cdot x + 0,7) - 1$ unterscheiden sich durch ...

- 1) Skalierung in vertikaler Richtung (A),
- 2) Skalierung in horizontaler Richtung (ω),
- 3) Verschiebung in vertikaler Richtung (c) und
- 4) Verschiebung in horizontaler Richtung (φ bzw. ω).

Diese Zusammenhänge zwischen den Graphen von

$$x \mapsto f(x) \quad \text{und} \quad x \mapsto a \cdot f(b \cdot x + c) + d$$

gelten nicht nur für die Sinusfunktion, sondern für *alle* reellen Funktionen f .

Amplitude A 

Die Funktionswerte von $g(x) = \sin(x)$ sind genau im Intervall $[-1; 1]$ enthalten.

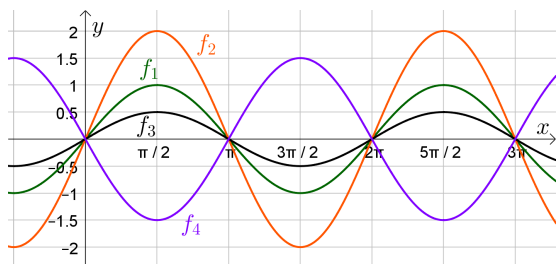
Also sind die Funktionswerte von $f(x) = A \cdot \sin(x)$ genau im Intervall $[-A; A]$ enthalten.

Eine Amplitude $A > 1$ bewirkt eine *Streckung* des Funktionsgraphen von g in y -Richtung.

Eine Amplitude $0 < A < 1$ bewirkt eine *Stauchung* des Funktionsgraphen von g in y -Richtung.

Die Graphen von $x \mapsto 3 \cdot \sin(x)$ und $x \mapsto -3 \cdot \sin(x)$ sind *Spiegelungen* voneinander an der x -Achse.

Die Graphen von Funktionen f_i mit $f_i(x) = A \cdot \sin(x)$ sind unten dargestellt.



$$f_1(x) = 1 \cdot \sin(x), \text{ weil } A = 1.$$

$$f_2(x) = 2 \cdot \sin(x), \text{ weil } A = 2.$$

$$f_3(x) = 0,5 \cdot \sin(x), \text{ weil } A = 0,5.$$

$$f_4(x) = -1,5 \cdot \sin(x), \text{ weil } A = -1,5.$$

Kreisfrequenz ω 

Die Funktion $g(x) = \sin(x)$ durchläuft eine vollständige Periode von $x = 0$ rad bis $x = 2 \cdot \pi$ rad.

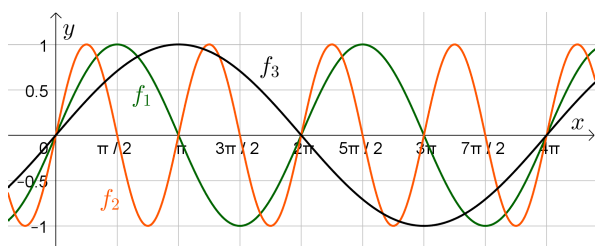
Also durchläuft $f(x) = \sin(\omega \cdot x)$ eine vollständige Periode von $x = 0$ rad bis $x = \frac{2 \cdot \pi}{\omega}$ rad.

Für die **Periodendauer T** und die **Kreisfrequenz ω** gilt also: $T = \frac{2 \cdot \pi}{\omega}$ bzw. $\omega = \frac{2 \cdot \pi}{T}$

Eine Kreisfrequenz $\omega > 1$ bewirkt eine *Stauchung* von g in x -Richtung. Je größer ω , desto kleiner T .

Eine Kreisfrequenz $0 < \omega < 1$ bewirkt eine *Streckung* von g in x -Richtung. Je kleiner ω , desto größer T .

Die Graphen von Funktionen f_i mit $f_i(x) = \sin(\omega \cdot x)$ sind unten dargestellt.

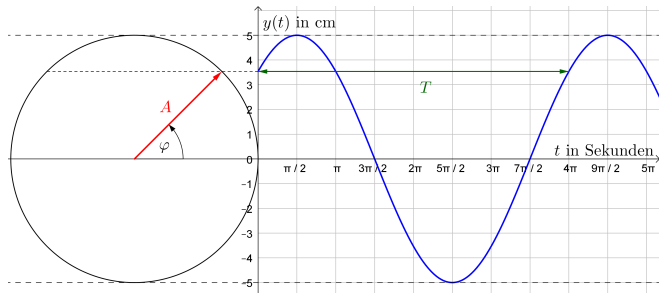


$$f_1(x) = \sin(x), \text{ weil } \omega = \frac{2 \cdot \pi}{2 \cdot \pi} = 1.$$

$$f_2(x) = \sin(2 \cdot x), \text{ weil } \omega = \frac{2 \cdot \pi}{\pi} = 2.$$

$$f_3(x) = \sin(0,5 \cdot x), \text{ weil } \omega = \frac{2 \cdot \pi}{4 \cdot \pi} = 0,5.$$

In einem Zeigerdiagramm rotiert ein Zeiger gegen den Uhrzeigersinn.
 Zum Zeitpunkt $t = 0$ ist der Zeiger in der unten dargestellten Position.
 Zum Zeitpunkt t ist $y(t)$ die y -Koordinate der Zeigerspitze.



Der Graph der Funktion y ist links dargestellt.
 Dabei gilt:

$$y(t) = A \cdot \sin(\omega \cdot t + \varphi)$$

t ... Zeit in Sekunden

$y(t)$... y -Koordinate der Zeigerspitze in cm

- 1) Die Länge des Zeigers ist die Amplitude $A = 5$ cm.
- 2) Ermittle die Kreisfrequenz ω dieser allgemeinen Sinusfunktion.

$$\omega = \frac{2 \cdot \pi}{T} = \frac{2 \cdot \pi}{4 \cdot \pi} = 0,5 \text{ rad/s}$$

Die Kreisfrequenz $\omega = \frac{\text{Zurückgelegter Winkel}}{\text{Benötigte Zeit}}$ heißt deshalb auch **Winkelgeschwindigkeit**.

Zum Zeitpunkt $t = 0$ gilt: $y(0) = A \cdot \sin(\omega \cdot 0 + \varphi) = A \cdot \sin(\varphi)$

Der Winkel φ ist also der Winkel zum Zeitpunkt $t = 0$ und heißt deshalb **Nullphasenwinkel**.

Für den oben eingezeichneten Nullphasenwinkel gilt: $\varphi = \frac{\pi}{4}$ rad

Zum Zeitpunkt t ist $\omega \cdot t + \varphi$ der Winkel des Zeigers.

- 3) Rechne nach, dass der Zeiger zum Zeitpunkt $t = \frac{7 \cdot \pi}{2}$ waagrecht nach rechts zeigt.

$$\omega \cdot t + \varphi = \frac{1}{2} \cdot \frac{7 \cdot \pi}{2} + \frac{\pi}{4} = \frac{8 \cdot \pi}{4} = 2 \cdot \pi \text{ rad}$$

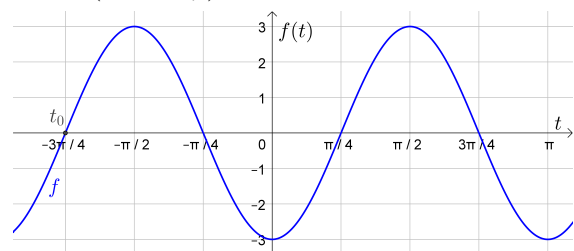
Der Zeiger zeigt also waagrecht nach rechts.

Der Graph einer allgemeinen Sinusfunktion f mit $f(t) = A \cdot \sin(\omega \cdot t + \varphi)$ ist dargestellt.

- 1) Ermittle die Parameterwerte $A > 0$ und $\omega > 0$.

$$A = 3$$

$$\omega = \frac{2 \cdot \pi}{T} = \frac{2 \cdot \pi}{\pi} = 2$$



Ausgehend von $t = 0$ drehen wir die Zeit so weit zurück, bis der Zeiger im Zeigerdiagramm waagrecht nach rechts zeigt. Dieser Zeitpunkt $t_0 = -\frac{3 \cdot \pi}{4}$ ist oben eingezeichnet.

Zum Zeitpunkt t_0 gilt $\omega \cdot t_0 + \varphi = 0$ bzw. $\varphi = -\omega \cdot t_0$.

- 2) Ermittle damit den Nullphasenwinkel $\varphi \in [0 \text{ rad}; 2 \cdot \pi \text{ rad}[$ und eine Funktionsgleichung von f .

$$\varphi = -\omega \cdot t_0 = -2 \cdot \left(-\frac{3 \cdot \pi}{4}\right) = \frac{3 \cdot \pi}{2} \implies f(t) = 3 \cdot \sin\left(2 \cdot t + \frac{3 \cdot \pi}{2}\right)$$

Jede Änderung von φ um $2 \cdot \pi$ hat keine Auswirkung auf den Funktionsgraphen, weil $\sin(\odot + 2 \cdot \pi) = \sin(\odot)$ gilt.

Zur Berechnung von $\varphi = -\omega \cdot t_0$ kannst du für t_0 deshalb jede Stelle wählen, bei der der Zeiger waagrecht nach rechts zeigt.

Bei dieser speziellen Funktion f kannst du den Nullphasenwinkel φ auch direkt an der Stelle $t = 0$ ablesen. Warum?

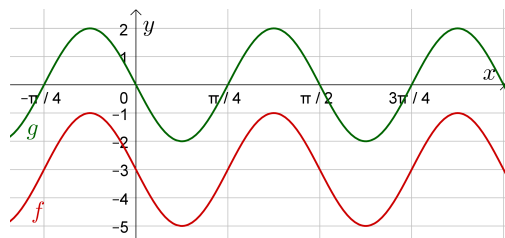
Die Funktionswerte von $g(x) = A \cdot \sin(\omega \cdot x + \varphi)$ sind genau im Intervall $[-A; A]$ enthalten.

Also sind die Werte von $f(x) = A \cdot \sin(\omega \cdot x + \varphi) + c$ genau im Intervall $[-A+c; A+c]$ enthalten.

$c > 0$ bewirkt eine *Verschiebung* des Funktionsgraphen von g um c Einheiten nach oben.

$c < 0$ bewirkt eine *Verschiebung* des Funktionsgraphen von g um $|c|$ Einheiten nach unten.

1) Ermittle eine Gleichung der dargestellten Funktion g .




$$A = 2$$

$$\omega = \frac{2 \cdot \pi}{\pi/2} = 4$$

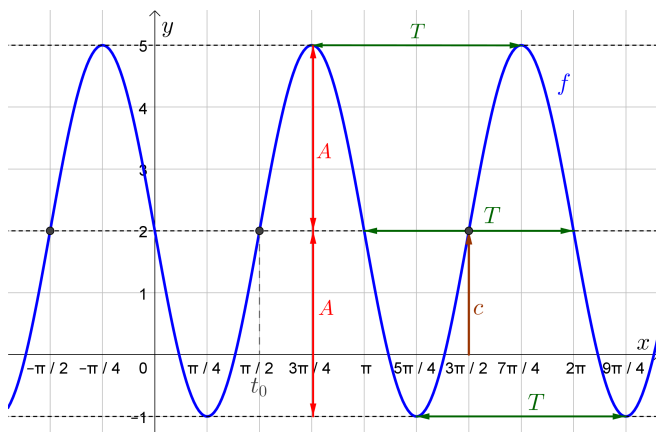
$$t_0 = -\frac{\pi}{4} \implies \varphi = -\omega \cdot t_0 = -4 \cdot \left(-\frac{\pi}{4}\right) = \pi$$

$$\implies g(x) = 2 \cdot \sin(4 \cdot x + \pi)$$

2) Für die dargestellte Funktion f gilt also: $f(x) = g(x) - 3 = 2 \cdot \sin(4 \cdot x - \pi) - 3$

Funktionsgraph \rightsquigarrow Funktionsgleichung 

Wir ermitteln die Parameter A, ω, φ und c von $f(x) = A \cdot \sin(\omega \cdot x + \varphi) + c$ aus dem Graphen:



Die horizontalen Geraden durch die Hochpunkte und durch die Tiefpunkte sind links eingezeichnet.

Bei der dargestellten Funktion f sind das die Geraden $y = 5$ und $y = -1$.

In der Mitte dazwischen verläuft die horizontale Gerade $y = \frac{5+(-1)}{2} = 2$.

Falls $c = 0$ gilt, dann ist die x -Achse diese mittlere Gerade.

1) Bei der dargestellten Funktion f gilt also: $c = 2$

2) Die Amplitude A ist der Abstand zwischen der mittleren und den beiden äußeren Geraden.
Bei der dargestellten Funktion f gilt also: $A = 3$

3) Die Periodendauer T ist (zum Beispiel) der Abstand zwischen benachbarten Hochpunkten.

$$T = \pi \implies \omega = \frac{2 \cdot \pi}{T} = 2$$

4) Lies eine Stelle t_0 ab, an der der Graph die mittlere Gerade von unten nach oben schneidet.
Der Zeiger im entsprechenden Zeigerdiagramm zeigt an einer solchen Stelle also waagrecht nach rechts.

$$t_0 = -\frac{\pi}{2} \implies \varphi = -\omega \cdot t_0 = \pi$$

Eine Gleichung der dargestellten Funktion f ist also $f(x) = 3 \cdot \sin(2 \cdot x + \pi) + 2$.

Gegeben ist die Funktion f mit $f(x) = 4,2 \cdot \sin(5 \cdot x - 1) + 2$.

Berechne einen **Hochpunkt** und einen **Tiefpunkt** von f .

Der größte Wert von $\sin(\odot)$ ist 1, also ist der größte Funktionswert $4,2 \cdot 1 + 2 = 6,2$.

Dieser größte Funktionswert wird z.B. an der Stelle $\odot = \frac{\pi}{2}$ angenommen:

$$5 \cdot x - 1 = \frac{\pi}{2} \iff x = \frac{\pi + 2}{10} = 0,514\dots$$

\implies Hochpunkt: (0,514... | 6,2)

Der kleinste Wert von $\sin(\odot)$ ist -1 , also ist der kleinste Funktionswert $4,2 \cdot (-1) + 2 = -2,2$.

Dieser kleinste Funktionswert wird z.B. an der Stelle $\odot = \frac{3\pi}{2}$ angenommen:

$$5 \cdot x - 1 = \frac{3 \cdot \pi}{2} \iff x = \frac{3 \cdot \pi + 2}{10} = 1,142\dots$$

\implies Tiefpunkt: (1,142... | -2,2)

Für die Funktion g gilt: $g(t) = 3,5 \cdot \sin(3 \cdot \pi \cdot t)$ (t in Sekunden, $y(t)$ in cm)

Für die **Kreisfrequenz** ω dieser Sinusschwingung gilt also: $\omega = 3 \cdot \pi$ rad/s

Einer vollständigen Kreisumdrehung entspricht der Winkel $2 \cdot \pi$ rad.

In diesem Zeigerdiagramm schafft der Zeiger also $\frac{3 \cdot \pi}{2 \cdot \pi} = \frac{3}{2}$ Umdrehungen pro Sekunde.

Das ist die sogenannte **Frequenz** f dieser Sinusschwingung: $f = \frac{3}{2} \frac{\text{Umdr.}}{\text{s}}$

Für die **Periodendauer** T dieser Sinusschwingung gilt: $T = \frac{2}{3} \frac{\text{s}}{\text{Umdr.}}$

Allgemein gilt: $\omega = 2 \cdot \pi \cdot f$ bzw. $f = \frac{1}{T}$

Erinnere dich, dass $\sin(-x) = -\sin(x)$, $\cos(-x) = \cos(x)$ und $\cos(x) = \sin(x + \frac{\pi}{2})$ für alle $x \in \mathbb{R}$ gilt.

Trage jeweils Zahlen in die großen Kästchen und $+$ bzw. $-$ in die kleinen Kästchen so ein, dass die Gleichung für alle $x \in \mathbb{R}$ stimmt.

a) $a(x) = 2 \cdot \sin(-4 \cdot x) + 3 = -2 \cdot \sin(4 \cdot x) + 3$

b) $b(x) = -3 \cdot \sin(2 \cdot x - 1) = 3 \cdot \sin(-2 \cdot x + 1)$

c) $c(x) = 5 \cdot \cos(-2 \cdot x + 3) = 5 \cdot \cos(2 \cdot x - 3)$

d) $d(x) = 4 \cdot \cos(3 \cdot x + \frac{\pi}{4}) = 4 \cdot \sin(3 \cdot x + \frac{3\pi}{4})$

e) $e(x) = \sin(x + \frac{\pi}{4}) + \pi = \cos(x - \frac{\pi}{4}) + \pi$

